




Yukarıdaki kapları su ile doldurursak;

📖 Hangisi daha çok su alır? Niçin?

📖 Hangisi daha az su alır? Niçin?

📖 Sürahiye doldurmak için tahminen kaç bardak su gerekir?



Yukarıdaki kapları su ile doldurursak;

📖 Hangisi daha çok su alır? Niçin?

📖 Hangisi daha az su alır? Niçin?

📖 Kovayı doldurmak için tahminen kaç pet şişe su gerekir?

📖 Kapları en az su alandan, en çok su olana doğru sıralayınız.

1. Bir sürahiye önce 4 bardak, sonra 2 bardak su konuluyor. Sürahideki suyun 3 bardağı içildiğinde geriye kaç bardak su kalır?

Çözüm :

2. Günde 5 sürahi su tüketen bir aile, bir haftada kaç sürahi su tüketir?

Çözüm :

3. Bir kova 8 sürahi, bir sürahi de 5 bardak su ile doluyor. Bir kova kaç bardak su ile dolar?


Çözüm :

4. Bir kovaya 10 su bardağı su boşaltılıyor. Çay bardağı, su bardağının yarısı büyüklüğünde olduğuna göre kovada kaç çay bardağı su vardır?

Çözüm :

SIVILARI ÖLÇME


■ Aşağıdaki resimleri inceleyiniz. Soruları yanıtlayınız.



• Sıvı ölçüsü birimine **litre** denir.



1 litre süt



1 litre süt



1 litre yağ

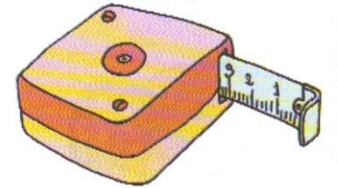

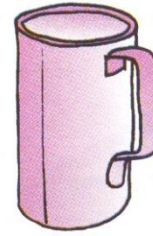
Yukarıdaki kapların hepsinde birer litre süt vardır. Kapların şekilleri değişik olsa bile, içindeki süt miktarı değişmez.

1. Resimde hangi sıvılar litre ile ölçülmüştür? Adlarını söyleyiniz.
2. Litre ile ölçülen hangi sıvıları biliyorsunuz? Adlarını söyleyiniz.

1. Cansu, Canan'dan 3 l süt almak istiyor. Canan'ın sadece yarım litrelik ölçü kabı var. Canan, elindeki ölçü kabı ile Cansu'nun süt tenceresine kaç kez süt boşaltmalıdır?

2. Canan'ın babası 25 l sütü yarım litrelik şişelere doldurarak satmak istiyor. Kaç tane şişeye ihtiyacı vardır?

3. Aşağıdaki ölçü araçlarından litreyi seçip, işaretleyiniz.



4. Aşağıdaki noktalı yerleri tamamlayınız.

6 l tane yarım litredir.

12 l tane yarım litredir.

7 yarım litre litredir.

18 yarım litre litredir.